



## **PREFEITURA DO MUNICÍPIO DE LIDIANÓPOLIS**

ESTADO DO PARANÁ – CNPJ/MF nº 95.680.831.0001-68

Rua Juscelino Kubitschek, 357- Lidianópolis/PR - CEP 86.865-000 - Fone/Fax (43) 34731238

### **QUESTÕES PORTUGUÊS**

#### **1- Leia o texto abaixo.**

##### **Com tempero e com paixão**

Toda comida nasceu para ser amada e tem seu lugar no coração. Salada, sopinha, chuchu, abobrinha. É só temperar com amor e carinho para que os sabores apareçam. O tempero não pode atropelar a essência de cada alimento. Ao contrário, deve despertar o melhor dele. [...] cada alimento pede uma dose diferente disso ou daquilo, uma pitada a mais, um raminho, uma folha. Ervas, sal, pimenta, alho, cebola, açúcar, limão, azeite, vinagre, mel, mostarda [...]. Folhas e legumes também temperam. Fantasias, [...] músicas, risadas [...]. E as frutas? Laranja, limão, romã, abacaxi. [...]

Basta experimentar com o que tiver na geladeira e no coração.

CARVALHO, Lavínia. Com tempero e com paixão. *In: Appetite*, 6 set. 2017. Disponível em: <https://meulink.fit/sgVtYIXYrPddKOQ>.

Nesse texto, no trecho “...deve despertar o melhor **dele**.”, a palavra destacada substitui:

- A) alimento.
- B) amor.
- C) coração.
- D) lugar.

#### **2- Leia o texto abaixo.**

##### **Como nasce uma árvore?**

Uma árvore é uma grande planta. Suas raízes lhe permitem absorver<sup>1</sup> a água e o alimento do solo. O tronco e os ramos, por onde circula a seiva<sup>2</sup>, levam o alimento a todas as partes da planta. As folhas captam a energia do sol e lhe permitem respirar.

**\*Vocabulário:**

<sup>1</sup>absorver: sugar.

<sup>2</sup>seiva: líquido dos vegetais.

DE ONDE vêm os frutos? *In: Meu 1º Larousse: como se faz*. São Paulo: Larousse, 2008. p. 140.

Qual é o assunto desse texto?

- A) A água.
- B) A energia que vem do sol.
- C) O nascimento da árvore.
- D) O solo.




**PREFETURA DO MUNICÍPIO DE LIDIANÓPOLIS**

**ESTADO DO PARANÁ – CNPJ/MF nº 95.680.831.0001-68**

Rua Juscelino Kubitschek, 357- Lidianópolis/PR - CEP 86.865-000 - Fone/Fax (43) 34731238

**3- Leia o texto abaixo.**



Esse texto faz uma crítica

- A) à diversidade de receitas feitas com frutas.
- B) à variedade de alimentos que não são naturais.
- C) ao consumo de alimentos que não são saudáveis.
- D) ao desperdício de alimentos ricos em açúcar.



## **PREFETURA DO MUNICÍPIO DE LIDIANÓPOLIS**

**ESTADO DO PARANÁ – CNPJ/MF nº 95.680.831.0001-68**

Rua Juscelino Kubitschek, 357- Lidianópolis/PR - CEP 86.865-000 - Fone/Fax (43) 34731238

### **TODOS DEPENDEM DA BOCA...**

Certo dia, a boca, com ar vaidoso, perguntou:

– Embora o corpo seja um só, qual é o órgão mais importante?

Os olhos responderam:

– O órgão mais importante somos nós: observamos o que se passa e vemos as coisas.

– Somos nós, porque ouvimos – disseram os ouvidos.

– Estão enganados. Nós é que somos mais importantes porque agarramos as coisas, disseram as mãos. Mas o coração também tomou a palavra:

– Então e eu? Eu é que sou importante: faço funcionar todo o corpo!

– E eu trago em mim os alimentos! – interveio a barriga.

– Olha! Importante é aguentar todo o corpo como nós, as pernas, fazemos.

Estavam nisto quando a mulher trouxe a massa, chamando-os para comer.

Então os olhos viram a massa, o coração emocionou-se, a barriga esperou

ficar farta, os ouvidos escutavam, as mãos podiam tirar bocados, as pernas

andaram... mas a boca se recusou a comer. E continuou a se recusar. Por

isso, todos os outros órgãos começaram a ficar sem forças... Então a boca

voltou a perguntar:

– Afinal qual é o órgão mais importante no corpo?

– És tu boca, responderam todos em coro. Tu és a nossa rainha!

GOMES, Aldónio. *Eu conto, tu contas, ele conta: Estórias africanas*. Mar Além, 1999. p. 6. Adaptado para fins didáticos.

#### **4- O fato que deu origem a essa história foi:**

- A) a boca querer saber qual era o órgão mais importante.
- B) a boca ter se recusado a comer a massa.
- C) os órgãos começarem a ficar sem forças.
- D) os órgãos discutirem sobre a importância de cada um.

#### **5- De acordo com esse texto, qual parte do corpo se emocionou ao ver o alimento?**

- A) A barriga.
- B) As mãos.
- C) O coração.
- D) Os ouvidos.



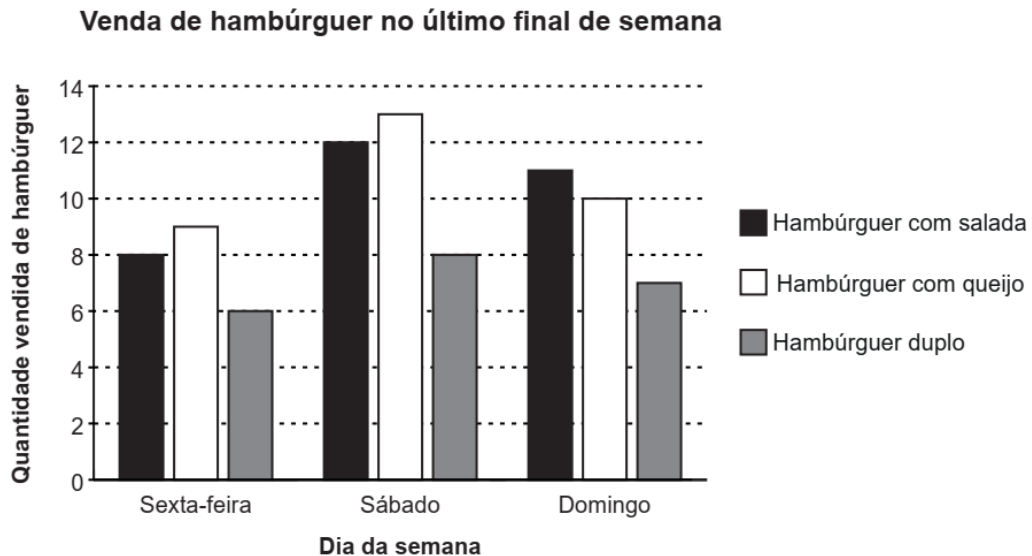
## **PREFETURA DO MUNICÍPIO DE LIDIANÓPOLIS**

ESTADO DO PARANÁ – CNPJ/MF nº 95.680.831.0001-68

Rua Juscelino Kubitschek, 357- Lidianópolis/PR - CEP 86.865-000 - Fone/Fax (43) 34731238

### **QUESTÕES MATEMÁTICA**

6- Júlio construiu um gráfico com as vendas de hambúrguer em sua lanchonete nos últimos três dias. Observe esse gráfico representado abaixo.



(CAED, 2024)

De acordo com esse gráfico, quantos hambúrgueres com queijo foram vendidos de sexta-feira até domingo?

- A) 22.
- B) 23.
- C) 32.
- D) 33.

7- Em uma promoção, Melissa ganhou 2 360 reais para gastar em uma loja. O primeiro produto que ela comprou com essa quantia custou 910 reais. Quantos reais Melissa ainda possui para gastar nessa loja?

- A) 1.350 reais.
- B) 1.450 reais.
- C) 2.450 reais.
- D) 3.270 reais.

(CAED, 2024)

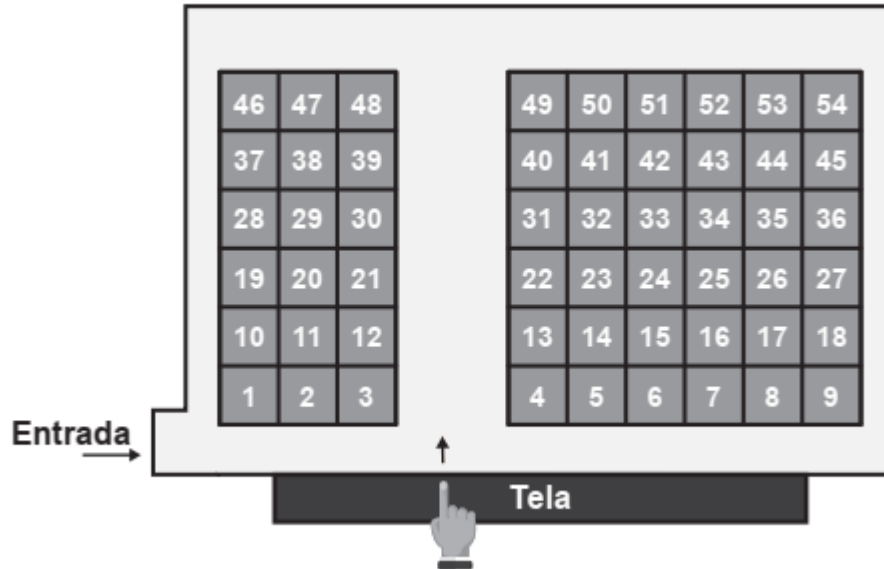


**PREFEITURA DO MUNICÍPIO DE LIDIANÓPOLIS**

ESTADO DO PARANÁ – CNPJ/MF nº 95.680.831.0001-68

Rua Juscelino Kubitschek, 357- Lidianópolis/PR - CEP 86.865-000 - Fone/Fax (43) 34731238

8- Pedro utilizou o mapa apresentado abaixo para definir a poltrona em que ele irá se sentar.



9-Ele pretende seguir em frente e se sentar na primeira poltrona da terceira fileira, que está à sua direita. Qual é o número da poltrona em que Pedro irá se sentar?

- A) 4.
- B) 6.
- C) 21.
- D) 22.

(CAED, 2024)

10- Uma biblioteca escolar na cidade de Laranjeiras recebeu, em um mês, 18.000 livros, sendo 6.200 livros de Português, 4.500 livros de Matemática, 4.100 livros de Geografia e o restante de História. Quantos livros de História foram recebidos por essa biblioteca?

- A) 3.200 livros.
- B) 7.300 livros.
- C) 7.700 livros.
- D) 9.400 livros.



## **PREFEITURA DO MUNICÍPIO DE LIDIANÓPOLIS**

ESTADO DO PARANÁ – CNPJ/MF nº 95.680.831.0001-68

Rua Juscelino Kubitschek, 357- Lidianópolis/PR - CEP 86.865-000 - Fone/Fax (43) 34731238

### **QUESTÕES CONHECIMENTOS GERAIS**

**11- A tabela a seguir mostra o número de casos de Covid-19 no Brasil, por regiões, até o dia 09 de Março de 2025.**

Casos de Covid-19 – Brasil por regiões

REGIÕES DO BRASIL	CASOS
SUL	<b>8.302.337</b>
CENTRO-OESTE	<b>4.604.490</b>
NORTE	<b>3.004.522</b>
NORDESTE	<b>7.624.707</b>
SUDESTE	<b>15.674.349</b>

09 de Março de 2025

A partir da tabela, é correto afirmar:

- A) As regiões Nordeste e Centro-Oeste foram as regiões com mais casos.
- B) As regiões Centro-Oeste e Sul foram as regiões com menos casos.
- C) A região Sudeste teve o triplo de casos em comparação com a região Norte.
- D) A região Nordeste teve mais que o dobro de casos registrados na região Norte.

Disponível em: <https://covid.saude.gov.br>. Acesso em: 09 MAR. 2025.

**12- No Brasil, estudo [...] apontou as principais redes sociais propagadoras de notícias falsas sobre o novo coronavírus**

no Brasil. Os dados revelam que 40,7% das informações falsas foram propagadas via WhatsApp, 33,3% no Facebook, 8,5% no Instagram, 7,4% no YouTube, 5,3% em sites, 2,6% no Twitter e 0,5% via SMS.

Disponível em: <https://brasil.elpais.com/opiniao/2020-08-11/fake-news-mata.html> .

Acesso em: 09 MAR. 2025.

De acordo com a pesquisa, as notícias falsas sobre o coronavírus circularam principalmente por:

- A) boca a boca.
- B) imprensa escrita.
- C) redes sociais.
- D) telejornalismo.



## **PREFETURA DO MUNICÍPIO DE LIDIANÓPOLIS**

**ESTADO DO PARANÁ – CNPJ/MF nº 95.680.831.0001-68**

Rua Juscelino Kubitschek, 357- Lidianópolis/PR - CEP 86.865-000 - Fone/Fax (43) 34731238

### **13- A lei maior de cada município brasileiro é conhecida como:**

- A) Código Civil Municipal.
- B) Coleção de Leis Municipais.
- C) Constituição Municipal.
- D) Lei Orgânica do Município.

Disponível em: <https://www.qconcursos.com/questoes-de-concursos/questoes/5d35a6a6-dd>.

Acesso em: 09 MAR. 2025.

### **14- Qual das alternativas apresenta os Presidentes do Brasil em ordem de sucessão?**

- a) Dilma Rousseff, Lula, Jair Bolsonaro, Lula
- b) Lula, Michel Temer, Jair Bolsonaro, Lula
- c) Lula, Dilma Rousseff, Jair Bolsonaro, Lula
- d) Collor, Lula, Jair Bolsonaro, Lula
- e) Dilma Rousseff, Michel Temer, Jair Bolsonaro, Lula

Disponível em: <https://www.todamateria.com.br/questoes-de-conhecimentos-gerais-e-atualidades/>. Acesso em: 09 MAR. 2025.

### **15 – Em qual dia e mês do ano é comemorado o Aniversário do Município de Lidianópolis?**

- A) 05 de Julho
- B) 06 de Julho
- C) 05 de Junho
- D) 06 de Junho



## **PREFETURA DO MUNICÍPIO DE LIDIANÓPOLIS**

**ESTADO DO PARANÁ – CNPJ/MF nº 95.680.831.0001-68**

Rua Juscelino Kubitschek, 357- Lidianópolis/PR - CEP 86.865-000 - Fone/Fax (43) 34731238

### **CONHECIMENTOS ESPECIFICOS**

**16. O Código de Trânsito Brasileiro estabelece em seu artigo 19 as competências do órgão máximo executivo de trânsito da União, sendo assim, assinale a alternativa correta.**

- a) Cumprir e fazer cumprir a legislação de trânsito e a execução das normas e diretrizes estabelecidas pelo DETRAN.
- b) Proceder à supervisão, à coordenação, à correição dos órgãos delegados, ao controle e à fiscalização da execução da Política Nacional de Trânsito e do Programa Nacional de Trânsito.
- c) Apurar, prevenir e reprimir a prática de atos de improbidade contra a fé pública, o patrimônio, ou a administração pública ou privada, de qualquer natureza.
- d) Julgar recursos interpostos acerca de notificações em infrações no trânsito.

**17. O trânsito de veículos nas vias terrestres abertas à circulação obedecerá às normas previstas no CTB, portanto, assinale a alternativa incorreta.**

- a) A circulação far-se-á pelo lado direito da via, admitindo-se as exceções devidamente sinalizadas.
- b) Os veículos precedidos de batedores terão prioridade de passagem, respeitadas as demais normas de circulação.
- c) A ultrapassagem de outro veículo em movimento deverá ser feita pela esquerda, obedecida a sinalização regulamentar e as demais normas estabelecidas neste Código, exceto quando o veículo a ser ultrapassado estiver sinalizando o propósito de entrar à esquerda.
- d) Quando veículos, transitando por fluxos que se cruzem, se aproximarem de local não sinalizado, terá preferência de passagem, no caso de rotatória, aquele que não estiver circulando por ela.





**PREFETURA DO MUNICÍPIO DE LIDIANÓPOLIS**

**ESTADO DO PARANÁ – CNPJ/MF nº 95.680.831.0001-68**

Rua Juscelino Kubitschek, 357- Lidianópolis/PR - CEP 86.865-000 - Fone/Fax (43) 34731238

**18 - A figura abaixo apresenta uma máquina bastante utilizada na construção civil. Essa máquina é chamada de:**



- A) retroescavadeira;
- B) motoniveladora;
- C) trator;
- D) aplainadora;

**19- Durante a operação de um trator, o som de um apito indica que:**

- (A) o motorista está realizando uma manobra de ré;
- (B) o veículo está sem combustível;
- (C) a pá escavadeira está sendo levantada;
- (D) o motorista saiu do veículo;

**20- Diversos tipos de lança podem ser empregados em uma escavadeira. A lança mais adequada para escavar um material pouco compactado ou mole, situado abaixo do terreno em que a máquina se apoia é o/a:**

- (A) pá frontal;
- (B) caçamba de mandíbula;
- (C) pá shovel;
- (D) caçamba de arrasto